



VOYAGES ET RENCONTRES EN TUNISIE LIVRET D'ACTIVITES

Géographie

Voici quelques détails sur la Tunisie, qui est un pays d'Afrique :

Population :	9 815 644 habitants (est. 2000)	Densité :	59.99 hab./km ²
Principales villes :	Sfax, Bizerte, Djerba, Gabès, Sousse, Kairouan, Gafsa	Pays voisins :	Algérie, Libye
Point culminant :	Jabal ash Sha'ambi 1 544 m.	Monnaie :	Dinar
Langue(s) parlée(s) :	Arabe	Langue(s) officielle(s) :	Arabe
Superficie :	163 610 km ²	Statut :	République

Questions de Géographie

I. Note sous chaque drapeau le pays qui convient à partir de cette liste :

Maroc, Turquie, Tunisie, Lybie



.....

.....

.....

.....

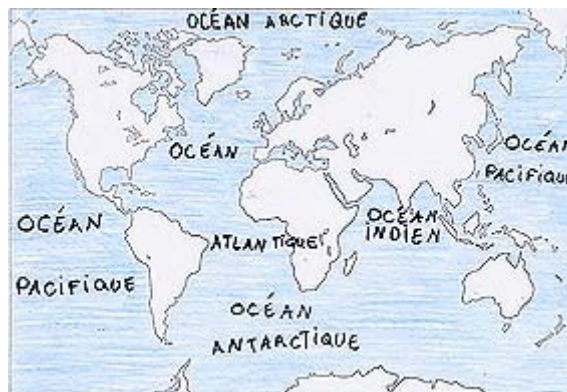
II. D'après la carte des continents ci-dessous, replace correctement chacun de ces noms de continent au bout de la flèche appropriée :

Amérique du Sud, Océanie, Asie, Afrique, Amérique du Nord, Europe.



III. LES OCEANS :

A) Voici une carte comprenant les noms et places des océans. A toi de bien les apprendre.



B) Aujourd'hui il y a cinq Océans:

- l'Océan Atlantique qui mesure 106 000 000 km²,
- l'Océan Arctique qui mesure 14 089 600 km²,
- l'Océan Antarctique qui mesure 14 000 000 km²,
- l'Océan Indien qui mesure 73 426 000 km²,
- l'Océan Pacifique qui mesure 180 000 000 km².

D'après ces chiffres, quel est le plus grand océan ?

.....

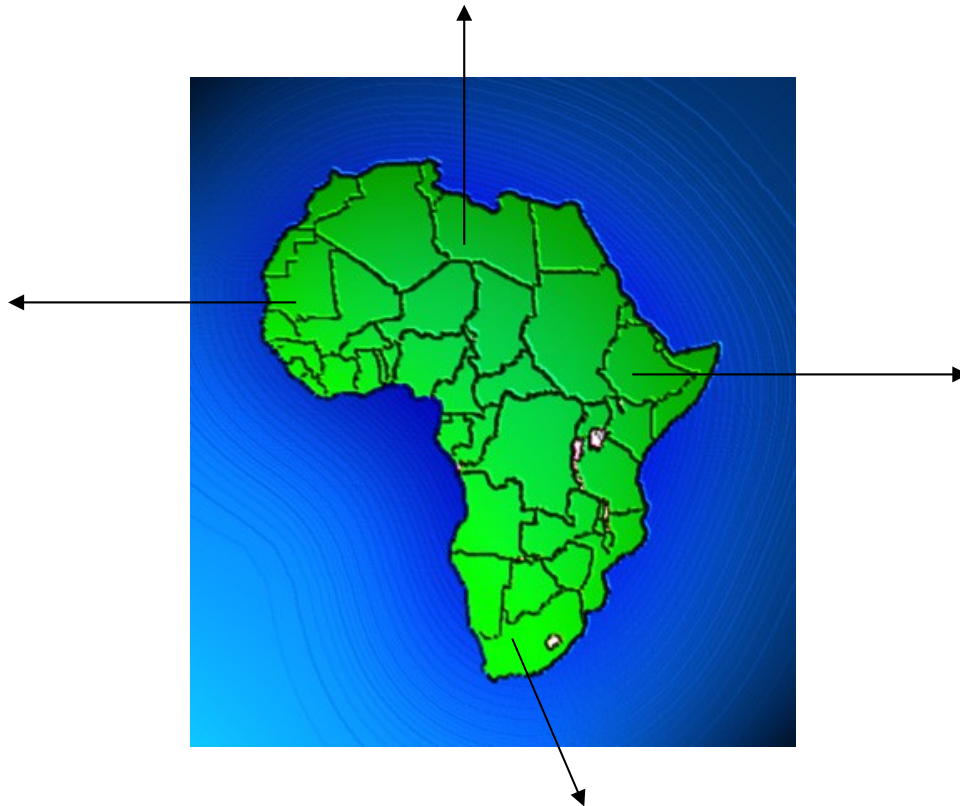
.....

C) Les Océans occupent 71% de la surface de notre Planète. Ce qui veut dire que les océans occupent environ : (Entoure la bonne réponse)

- a. Un quart de la surface de la Planète
- b. Deux quarts de la surface de la Planète
- c. Trois quarts de la surface de la Planète
- d. Quatre quarts de la surface de la planète

IV. La Carte Géographique de l'Afrique.

A) D'après cette carte géographique de l'Afrique, essaye de placer la Tunisie en coloriant en rouge au bon endroit.



B) Place au bout de chaque flèche appropriée une des propositions suivantes :
Afrique du Nord, Afrique de l'Est, Afrique du Sud et Afrique de l'Ouest

C) Où la Tunisie se situe-t-elle en Afrique, 4 choix te sont proposés. Entoure la bonne réponse :

- | | |
|----------------------------|--------------------------|
| a : Sud-Ouest de l'Afrique | c. Sud-Est de l'Afrique |
| b. Nord-Ouest de l'Afrique | d. Nord-Est de l'Afrique |

V. LA TUNISIE

A) Réponds à ces 4 questions, en utilisant une des réponses suivantes :

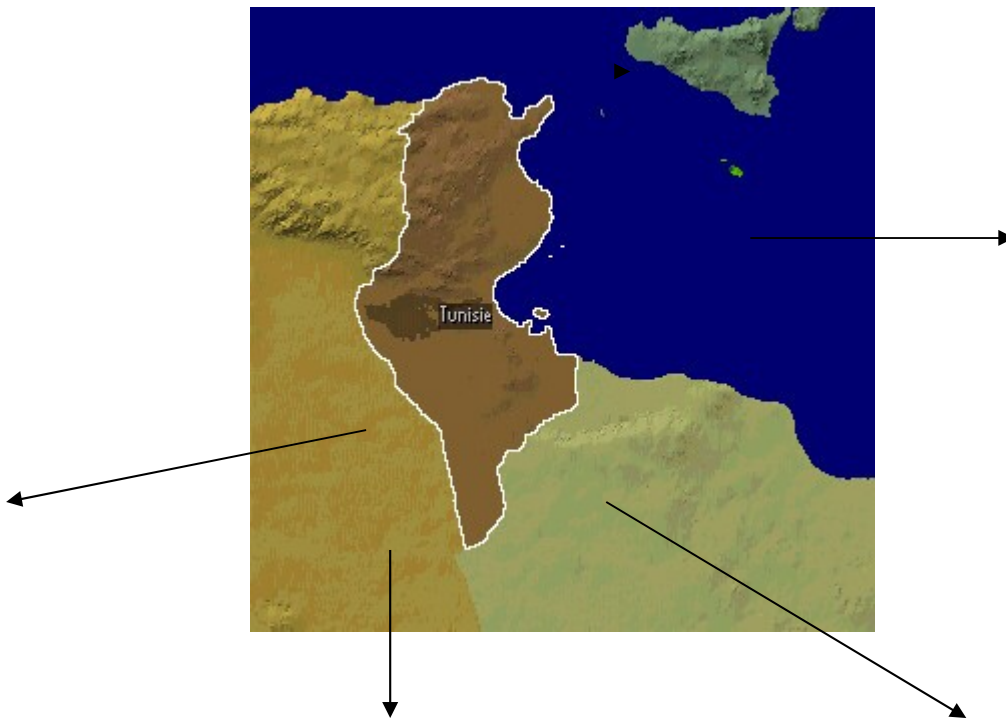
Le désert du Sahara, l'Algérie, la Méditerranée, la Lybie.

- 1) Quel pays trouve-t-on au Sud-est de la Tunisie ?.....
- 2) Quelle mer borde les côtes de la Tunisie ?.....
- 3) Que trouve-t-on au Sud de la Tunisie ?.....

4) Quel pays trouve-t-on à l'Ouest de la Tunisie ?.....

B) Voici la carte de la Tunisie.

Replace au bout de chaque flèche sur la carte tes réponses aux 4 dernières questions :



C) La capitale

1) Quelle est la définition d'une capitale ?.....

.....
.....

2) Quelle est la capitale de la Tunisie ?.....Puis entoure-la en rouge sur la carte.



EXPRESSION ECRITE

Une fois que tu auras écouté chaque conte ou légende, réponds à chaque question en entourant, quand il le faut, la bonne réponse, sinon réponds par une phrase.

LE CONTE LES DEUX SOURIS BLANCHES



1) Dans quelle ville se passe la scène ? Entoure la bonne réponse.

- | | |
|-----------|--------------|
| a. Agadir | c. Tunis |
| b. Alger | d. Marrakech |

2) Comment s'appelle le personnage principal ?.....

.....

3) De quelle couleur est la petite souris du conte ?

- | | |
|----------|------------|
| a. Verte | c. Blanche |
| b. Grise | d. Rouge |

UNE ETRANGE FORTUNE



1) Comment s'appelle l'immense désert qui borde le Sud de la Tunisie ?.....

.....

2) Comment s'appelle le personnage principal ?.....

.....

3) Réintègre cette liste de mots dans le texte qui suit.

Jour, famille, chemins, Choucri, secret.

Un, où la situation de tous était encore plus désespérée, malgré son jeune âge, décida en de partir sur les pour essayer de subvenir à la vie quotidienne de sa

4) Qu'est-ce que le personnage principal découvre dans le sable ?

- a. Une statue
- b. Une jarre
- c. Un trésor
- d. Une clef

5) Grâce au monstre, de quel genre de troupeau Choucri devient-il propriétaire ?

- a. vaches
- b. chiens
- c. chameaux
- d. moutons

6) De quelle couleur est le dernier animal qui naît ?.....

7) Dans ce conte, on apprend qu'à un moment certains moineaux ne piaillent pas, dis-nous pourquoi en choisissant une de ces 5 réponses :

- a. Ils tiennent dans leur bec des vers de terre
- b. Ils tiennent dans leur bec une bague en or
- c. Ils tiennent dans leur bec une perle
- d. Ils tiennent dans leur bec une pépite d'or

8) Qui se révèle être le monstre géant de la jarre ?

- a. Le roi des tempêtes du désert
- b. Le roi des tornades du désert
- c. Le roi des vents du désert
- d. Le roi des tourbillons du désert

9) Qui est en réalité la chamelle blanche de Choucri ?.....

.....

.....

.....
.....
10) A l'aide des réponses aux questions précédentes et de ce que tu as retenu du conte, essaye de résumer en très peu de mots ce conte.

.....
.....
.....
.....
.....
.....
.....
.....
.....
.....
.....
.....
.....
.....
.....
.....
.....

DE L'OR ET DES DATTES



1) Où se passe cette légende ? Entoure la bonne réponse.
a. Djerba c. Douz
b. Tunis d. Tozeur

2) Comment s'appelle le personnage principal ?.....
.....

3) Quel est le métier de ce personnage principal ?
a. Vendeur de thé c. Vendeur de chameaux
b. Berger d. Vendeur de dattes

4) Essaie de donner la définition d'un souk ?.....
.....
.....

5) Réintègre dans ce texte extrait de la légende les mots manquants suivants :
Visite, dattes, d'argent, paix, homme.

Un très vieil..... s'approche alors de lui, le salut et explique le but de sa

Que la soit avec toi... Voilà, j'ai très envie de dattes mais je n'ai pas pour te payer. Par contre, si tu me donnes un sac de, je te dirai comment avoir un sac d'or en échange.

- 6) Que verra Ali derrière la tombe du marabout ?
- a. un château
 - b. un lac
 - c. un grand désert
 - d. une maison en ruine

7) De quelle couleur est le sable que le vieil homme donna à Ali ?.....

- 8) Quel animal garde l'entrée du lieu où va Ali ?
- a. Un serpent rouge
 - b. Un chien jaune
 - c. Un chat noir
 - d. Un faucon bleu

9) En sachant que « Une étrange fortune » est un conte, « de l'or et des dattes » est une légende, devine la différence entre un conte et une légende :

.....

.....

.....

.....

10) A l'aide des réponses aux questions précédentes, essaye de résumer en très peu de mots cette légende.

.....

.....

.....

.....

.....

.....

.....

.....


.....

.....

DESSIN

Dessine un des personnages de ton choix provenant des contes et légendes que tu viens d'écouter, en utilisant, s'il y a, la description déjà faite de ce personnage.





LA VIE EN TUNISIE

1) Répète chacune de ces traductions une fois, ensuite utilises-en certaines pour traduire la phrase qui suit sans faire de fautes d'orthographe. Enfin répète entièrement cette phrase.

- Bonjour : Asslema
- Au revoir : Bisslama
- Je suis un enfant : ana tfil
- J'habite la Tunisie : niiche fi tounis
- J'aime aller à l'école : nhib nimchi lil makteb
- J'aime danser et chanter : nhib echtih ouel rna
- Je t'embrasse très fort : nabaathlik boussa kbira
- A bientôt de te rencontrer : inchallah nitaarfou fi moudda kriba

Bonjour, j'habite la Tunisie, je t'embrasse très fort, à bientôt de te rencontrer, au revoir :

.....
.....

2) Après avoir écouté les prénoms les plus communs en Tunisie, retrouve deux prénoms de garçons et deux prénoms de filles :



Prénoms de Garçon :

.....

Prénoms de Fille :

.....

3) Voici quelques photos concernant la Tunisie, replace sous chacune d'elles un des titres suivants qui correspond :

- La Médina de Kairouan**
- Le souk tunisien**
- Une enfant de Tozeur**
- Une entrée Tunisienne**
- Une rue de Sidi Bou Saïd**
- Caravane dans le désert**

Oasis du désert



4) Tunisie : La Flore

Voici 4 types de fleurs ou d'arbres qu'on peut trouver en Tunisie, essaye de placer sous chaque photo le nom approprié.

L'Olivier, le Palmier-dattier, la Fleur de cactus, les Figueiers



.....

5) Tunisie : La Faune

Voici 4 photos d'animaux ou d'oiseaux typiques en Tunisie, replace sous chaque photo le titre approprié.

Scorpion, Gazelle, Dromadaire, Ane



.....



.....